
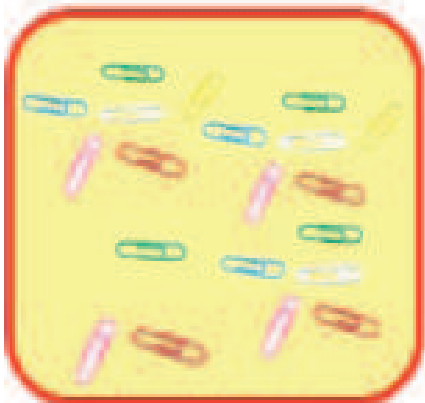




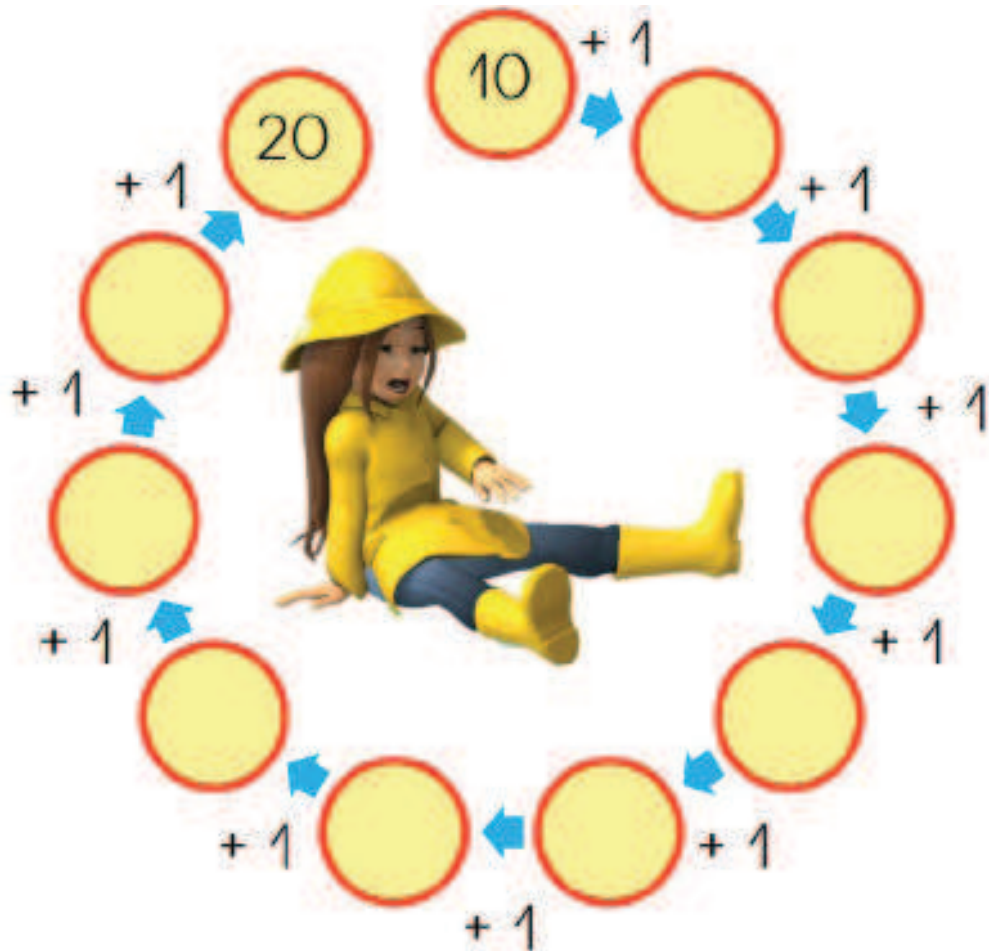
## EL NOMBRE DE LOS NÚMEROS

● Cuenta y escribe el número.





## EL NOMBRE DE LOS NÚMEROS



● Escribe el nombres de estos números.

10 diez

11 once

12 doce

13 trece

14 catorce

15 quince


16 dieciséis

17 diecisiete

18 dieciocho

19 diecinueve

20 veinte



# LA SUMA

$$\begin{array}{r} 12 \\ + 23 \\ \hline 35 \end{array}$$

$$\begin{array}{r} \text{D} \quad \text{U} \\ 1 \quad 2 \\ + 2 \quad 3 \\ \hline 3 \quad 5 \end{array}$$

● Suma.

$$\begin{array}{r} 3 \quad 4 \\ + 2 \quad 1 \\ \hline \end{array}$$

$$\begin{array}{r} 5 \quad 0 \\ + 1 \quad 2 \\ \hline \end{array}$$

$$\begin{array}{r} 6 \quad 3 \\ + 1 \quad 4 \\ \hline \end{array}$$

$$\begin{array}{r} 2 \quad 4 \\ + 3 \quad 0 \\ \hline \end{array}$$

$$\begin{array}{r} 3 \quad 3 \\ + 1 \quad 2 \\ \hline \end{array}$$

$$\begin{array}{r} 6 \quad 3 \\ + 2 \quad 5 \\ \hline \end{array}$$



# TRABAJO CON DATOS

○ Cuenta y escribe el número.

