

euros

conozco los euros

1

Muestra gratuita
Fundación
INTEGRA

✓ Estas son las monedas:



2 euros



1 euro

✓ Estos son los billetes:



50 euros



20 euros



10 euros



5 euros

2 **Muestra gratuita Fundación INTEGRA**

✓ Repasa.



2 euros



1 euro

✓ Repasa.



50 euros



20 euros



10 euros



5 euros

Muestra gratuita Fundación INTEGRAL ³

✓ Marca la moneda de 1 euro.



✓ Marca el billete de 5 euros..



4 Muestra gratuita Fundación INTEGRÁ

✓ Marca la moneda de 2 euros.



✓ Marca el billete de 10 euros.



Muestra gratuita Fundación INTEGRAL 5

✓ Haz una cruz sobre las monedas de 1 euro.



6 Muestra gratuita Fundación INTEGRA

✓ Haz una cruz sobre las monedas de 2 euros.



Muestra gratuita Fundación INTEGRAL 7

euros

manejo los euros

2



Muestra gratuita
Fundación
INTEGRA

✓ Escribe euro (€) o céntimos (c).

MONEDAS

BILLETES




✓ Para usar bien las monedas, debemos conocerlas bien. No hay monedas de 100 céntimos pero:

1€ son 100 céntimos



✓ Marca con una cruz los grupos que forman un euro.



✓ Relaciona cada billete con su valor.



50€



20€



5€



200€



500€



10€



100€

14 Muestra gratuita Fundación INTEGRAL

euros

sumo con euros

3

Muestra gratuita
Fundación
INTEGRA



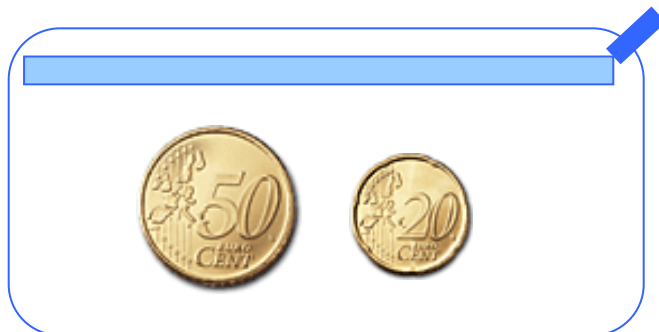
✓ Suma el dinero que hay en las carteras.



$$\begin{array}{r} \square \\ + \square \\ \hline \square \end{array}$$



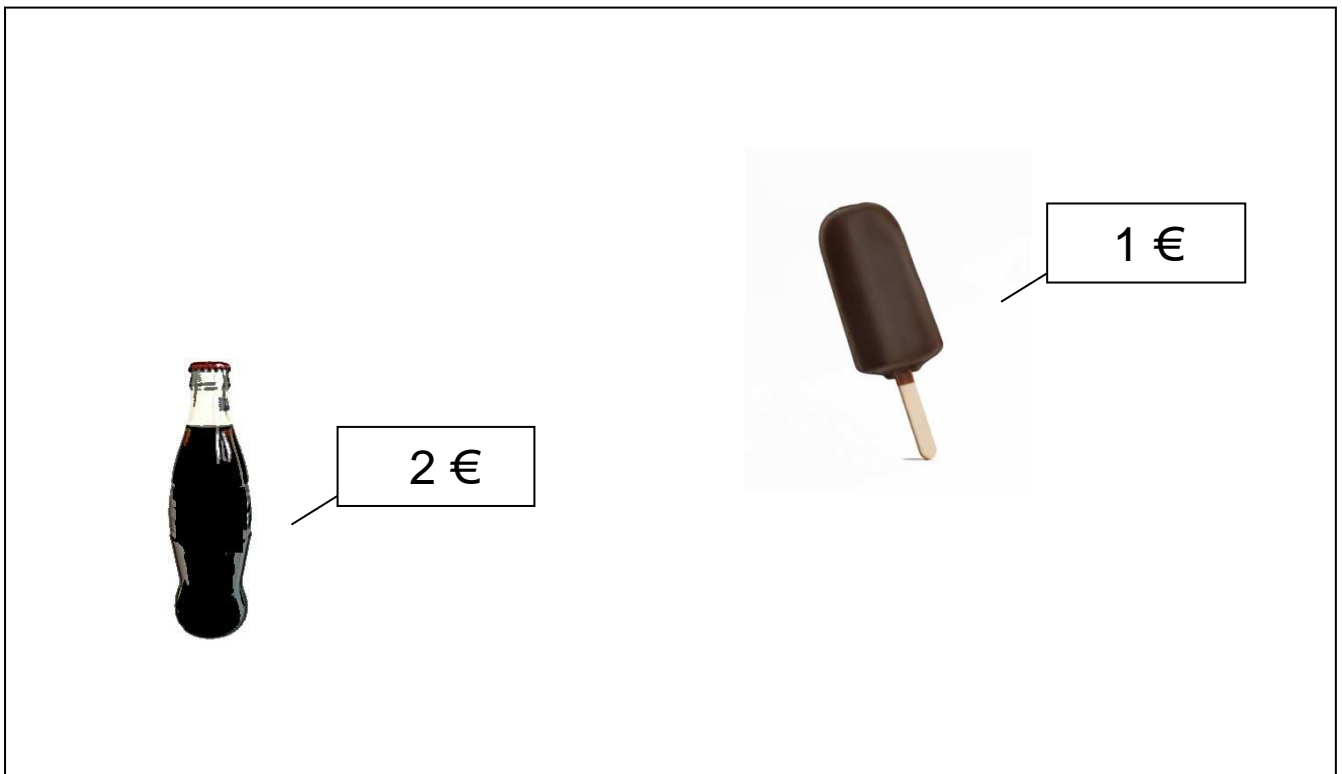
$$\begin{array}{r} \square \\ + \square \\ \hline \square \end{array}$$



$$\begin{array}{r} \square \\ + \square \\ \hline \square \end{array}$$

2 Muestra gratuita Fundación INTEGRA

✓ ¿Cuánto cuesta comprar estos artículos?



Suma

$$\begin{array}{r} \square \\ + \square \\ \hline \square \end{array}$$

Respuesta: _____

✓ Quieres comprar estas cosas:



2 €



3 €

✓ ¿Cuánto pagarás?


$$\begin{array}{r} \square \\ + \square \\ \hline \square \end{array}$$

✓ ¿Con qué billete pagarás? Marca.





euros

 resto con euros




4



Muestra gratuita
Fundación
INTEGRA

✓ Fíjate.

1. Compró la pelota:



2. Pago con un billete de 10 euros:



3. ¿Cuánto me sobra?

Resta:

-	

Respuesta: _____

8 Muestra gratuita Fundación INTEGRÁ

✓ Elige.

1. ¿Qué comprarías? Marca.



2 €



1 €



1 €

2. ¿Con qué moneda pagarías? Marca.



3. ¿Cuánto te sobra?


Resta:

	-	<div style="border: 1px solid black; width: 60px; height: 30px; margin: 0 auto;"></div>
		<div style="border: 1px solid black; width: 60px; height: 30px; margin: 0 auto;"></div>
		<hr style="width: 100%; border: 0.5px solid black;"/>
		<div style="border: 1px solid red; width: 60px; height: 30px; margin: 0 auto;"></div>

Respuesta: _____



euros

 de compras con euros

5



**Muestra gratuita
Fundación
INTEGRA**

✓ Fíjate en estos productos.



10 €



7 €



3 €

1. ¿Cuánto gasto si compro esos productos?

Cuenta:

Respuesta: _____

2. ¿Con qué pago? Marca.



3. ¿Cuánto me sobra?

Cuenta:

Respuesta: _____

✓ Una camiseta cuesta 5 euros.



5 €

1. ¿Cuánto cuestan dos camisetas?



Cuenta:

✓ Pista: Puedes usar una calculadora para multiplicar.

2. ¿Cuánto cuestan tres camisetas?



Cuenta:

3. ¿Cuánto cuestan cinco camisetas?



Cuenta: