




✓ ¿Cuántas monedas de 1 euro se pueden formar con los céntimos de cada monedero?



✓ ¿Cuántos billetes de 5 euros se pueden formar con estas monedas?



✓ Fíjate en este billete:



✓ ¿Cuánto dinero tienes que añadir a cada hucha para que tenga 20 €?



para tener 20 €
hay que añadir



para tener 20 €
hay que añadir



para tener 20 €
hay que añadir



para tener 20 €
hay que añadir

